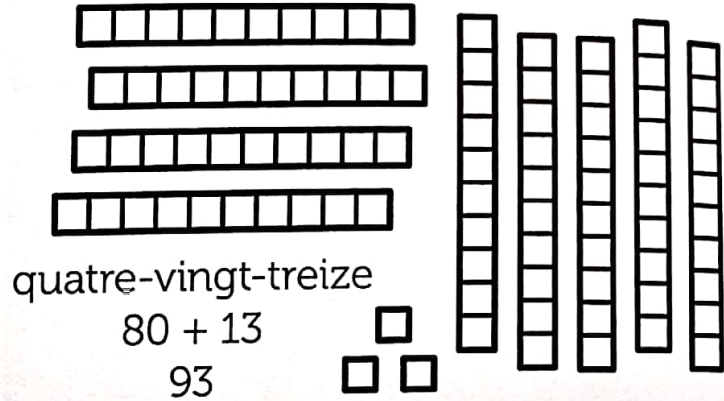
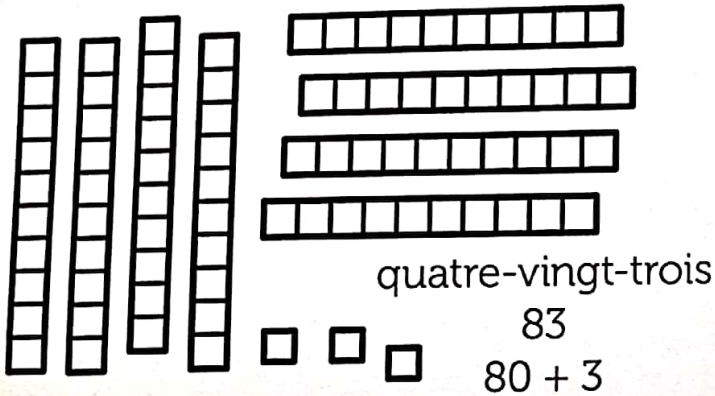


✓ Je sais nommer, lire et écrire les nombres jusqu'à 99.

Tous les nombres de 80 à 99 commencent par le mot quatre-vingt(s).



Écris les nombres dans les cases jaunes.

80	82	85	89	
.....	91	93	96	97

Relie les étiquettes.


- 81 • quatre-vingt-neuf
- 85 • quatre-vingt-un
- 89 • quatre-vingts
- 84 • quatre-vingt-cinq
- 80 • quatre-vingt-quatre

- 96 • quatre-vingt-seize
- 90 • quatre-vingt-dix-sept
- 99 • quatre-vingt-dix
- 97 • quatre-vingt-douze
- 92 • quatre-vingt-dix-neuf




Barre les écritures qui ne correspondent pas aux schémas.

4



- $80+1$
- $8d\ 1u$
- quatre-vingt-onze
- $20+20+20+20+1$
- ~~61~~
- $20+20+20+1$
- quatre-vingt-un
- $60+11$
- $1d\ 8u$
- $10+10+10+10+10+10+10+10+1$
- 81



- $10+10+10+10+10+10+10+10+10+6$
- $80+16$
- $90+6$
- $80+6$
- quatre-vingt-six
- $8d\ 6u$
- 96
- 86
- $9d\ 6u$
- quatre-vingt-seize

Écris en chiffres.

5

- $6d\ 5u \rightarrow 65$
- $6u\ 9d \rightarrow \dots\dots$
- $8d\ 4u \rightarrow \dots\dots$
- $8d\ 12u \rightarrow \dots\dots$
- $8d\ 9u \rightarrow \dots\dots$
- $8d\ 2u \rightarrow \dots\dots$
- $9d\ 5u \rightarrow \dots\dots$
- $8d\ 10u \rightarrow \dots\dots$
- $3u\ 8d \rightarrow \dots\dots$
- $8d\ 18u \rightarrow \dots\dots$

Complète le tableau.

6

87	$8d\ 7u$
97
.....	$9d\ 1u$
.....	$8d$
98
99

Recopie et calcule.


7

- a) $80+6=$
- c) $80+9=$
- e) $80+1=$
- b) $80+16=$
- d) $80+19=$
- f) $80+11=$

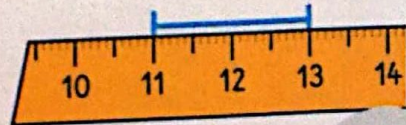
Complète.



..... cm



..... cm



..... cm